



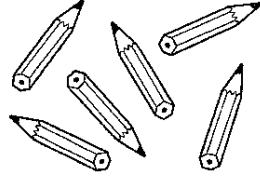
① なかまづくりと かず①
(1から 10までの かず)

1ねん	くみ	ばん
なまえ		


1 かあどの かずと おなじ かずの ものに ○を つけましょう。



()





()

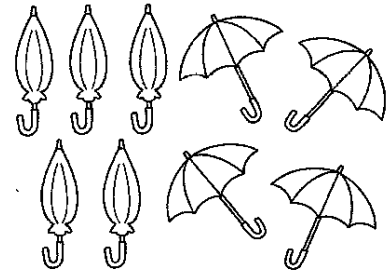


()

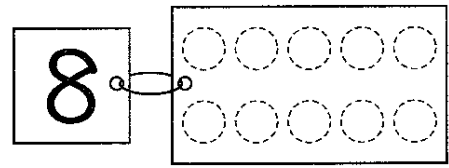
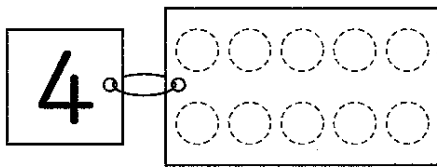
2 □に すうじを かきましょう。







3 すうじの かずだけ かあどの ○に いろを ぬりましょう。




4 □に すうじを かきましょう。

1	2		4	5			8	9	
---	---	--	---	---	--	--	---	---	--

① なかまづくりと かず①
(1から10までの かず)

1ねん	くみ	ばん
なまえ		



1 は をやりたいとおもっています。 の かずは たりるでしょうか。したのようにかんがえてみましょう。

① うえの えの なかで、 と をひとつずつ — で つないでみましょう。

② と の かずを かぞえてみましょう。

ぴき こ

2 の かずを かぞえたいとおもいます。あなたは、 どのようにして かぞえますか。○をつけましょう。

1つずつ ゆびで さして かぞえる。
()

えんぴつで しるしをつける。
()

ぶろっくを おいて かぞえる。
()



※本ページは、教科書1年①P.31まで学習した後でご使用下さい。


① なかまづくりと かず ② (いくつと いくつ)	1ねん くみ ばん
	なまえ


1 2まいの かあとで 7をつくります。


に かずをかきましょう。

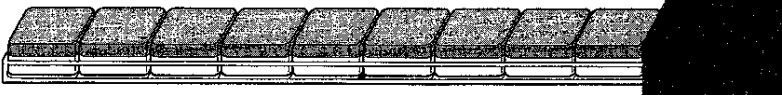
① と ② と ③ と

2  が 10こ あります。かくれている  の かずを、に かきましょう。

① 

② 

③ 

④ 

3 あと いくつで 8になりますか。

に かずをかきましょう。

① と ② と ③ と