

いっおうになろう No.1

なまえ _____


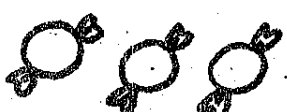

6	6	6	6	6	6
4	1	3	2	5	6

- 6 は 5 と
- 6 は 4 と
- 6 は 1 と
- 6 は 3 と
- 6 は 2 と

⑥ 6 になるように ○ をかこう。

●●●●	と	<input type="text"/>	で 6
●	と	<input type="text"/>	で 6

⑥ あと いくつで 6 になる？

		
<input type="text"/>	<input type="text"/>	<input type="text"/>



いっおうになろう No.2

なまえ _____




7	7	7	7	7	7
4	6	1	3	2	5

- 7 は 3 と
- 7 は 1 と
- 7 は 2 と
- 7 は 5 と
- 7 は 4 と

⑦ 7 になるように ○ をかこう。

●●●●	と	<input type="text"/>	で 7
●●	と	<input type="text"/>	で 7

⑦ あと いくつで 7 になる？

		
<input type="text"/>	<input type="text"/>	<input type="text"/>



いくつだいおうになろう No.3

なまえ

8	
4	

8	
2	

8	
6	

8	
1	

8	
5	

8	
3	

8 は 7 と

8 は 3 と

8 は 4 と

8 は 2 と


8 は 5 と


8 になるように 〇をかこう。

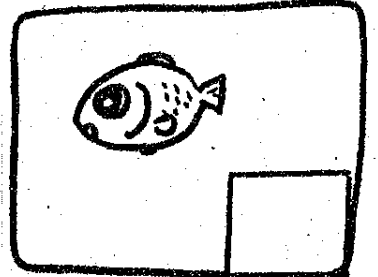
 と で 8

 と で 8

あと いくつで 8 になる？









いくつだいおうになろう No.4

なまえ

9	
3	

9	
2	

9	
5	

9	
7	

9	
4	

9	
8	

9 は 1 と

9 は 6 と

9 は 3 と

9 は 7 と

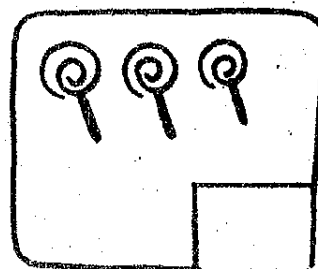
9 は 4 と

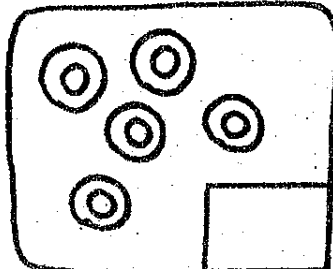
9 になるように 〇をかこう。

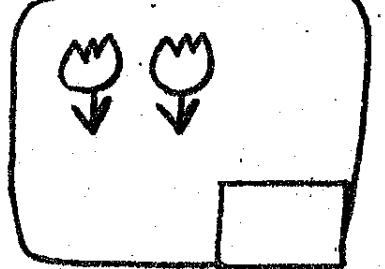
 と で 9

 と で 9

あと いくつで 9 になる？









いくつだいおうになろう No. 5

なまえ _____

10	
2	

10	
9	

10	
4	

10	
7	

10	
5	

10	
3	

10 は 1 と

10 は 6 と

10 は 8 と

10 は 3 と

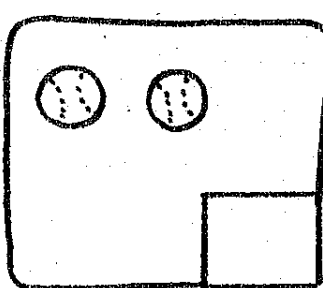
10 は 4 と


◎ 10 になるように 〇 をかこう。

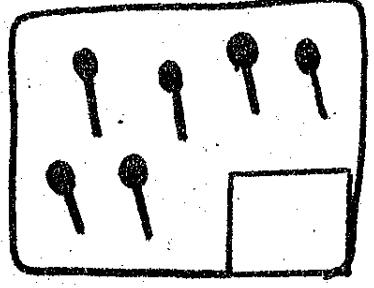
 と で 10

 と で 10

◎ あと いくつで 10 になる？









いくつだいおうになろう No. 6

なまえ _____

6	
4	

7	
3	

8	
6	

7	
2	

8	
3	

8	
1	

6 は 5 と

7 は 4 と

7 は 6 と

8 は 2 と

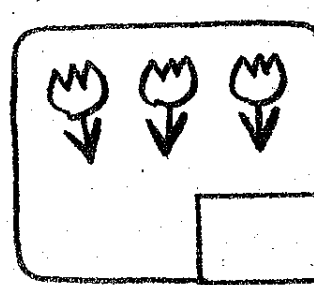
8 は 4 と


◎ 7 になるように 〇 をかこう。


 と で 7

 と で 7

◎ あと いくつで 8 になる？









いくつだいおうになろう No.7

なまえ _____

9	
1	

10	
8	

9	
6	

10	
3	

9	
4	

10	
6	

9 は 2 と

9 は 5 と

9 は 3 と

10 は 5 と


10 は 1 と

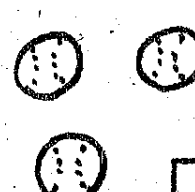
9 になるように 〇をかこう。

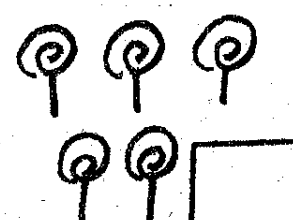
	と	<input type="text"/>	で 9
------------------------------------------------------------------------------------	---	----------------------	-----

	と	<input type="text"/>	で 9
------------------------------------------------------------------------------------	---	----------------------	-----

あと いくつで 10 になる？

	<input type="text"/>
-------------------------------------------------------------------------------------	----------------------

	<input type="text"/>
---------------------------------------------------------------------------------------	----------------------

	<input type="text"/>
---------------------------------------------------------------------------------------	----------------------



いくつだいおうになろう No.8

なまえ _____

10	
6	

6	
2	

9	
7	

8	
3	

10	
2	

7	
4	

6 は 3 と

7 は 2 と

8 は 7 と

9 は 3 と


10 は 1 と


10 になるように 〇をかこう。


	と	<input type="text"/>	で 10
--------------------------------------------------------------------------------------	---	----------------------	------

	と	<input type="text"/>	で 10
--------------------------------------------------------------------------------------	---	----------------------	------

あと いくつで 10 になる？

	<input type="text"/>
-------------------------------------------------------------------------------------	----------------------

	<input type="text"/>
---------------------------------------------------------------------------------------	----------------------

	<input type="text"/>
---------------------------------------------------------------------------------------	----------------------